

## Yönler

Öğretmenimiz "Yönler" konusunu işlemiştir. Herkesten yönünü nasıl bulabileceği ile ilgili bir sunum yapmasını istedi. Yönler ile ilgili bir kitap okumuştum. Kitapta karınca yuvalarının ağzının güneye baktığı yazıyordu. Bu, yön bulmaya yarayan bir bilgiydi. Ayrıntılı bir şekilde karıncalarla ilgili araştırma yaptım ve sınıfta sundum.

1. ve 2. soruları metne göre cevaplayalım.

1. Öğretmenleri hangi konuyu işlemiştir?

- A. Yönler
- B. Hayvanlar
- C. Karıncalar

2. Karınca yuvalarının ağzı hangi yöne bakar?

- A. Kuzey
- B. Güney
- C. Batı

3. Metnin başlığı aşağıdakilerden hangisidir?

- A. Hayvanlar Alemi
- B. Karıncalar
- C. Yönler

4. Aşağıdaki cümlelerden hangisi "güzel konuşmak" anlamında kullanılır?

- A. Etekleri zil çalmak
- B. Çam devirmek
- C. Ağzından bal akmak

5.



Yukarıda tavukların en sevdiği meyve ve sebzeler harf sırasına göre sıralanırken bir yerde hata yapılmıştır. Hangi iki meyvenin yeri değiştirilirse hata düzeltilmiş olur?

- A. Elma Erik
- B. Enginar Elma
- C. Enginar Erik

6.



Yukarıdaki kelimelerle anlamlı ve kurallı bir cümle oluşturmak istersek hangi iki kelimenin yerini değiştirmemiz gerekir?

- A. küçük - ağaca  
B. kondu - kuş  
C. küçük - kondu

7.



Türkçe'de kelimelerin başında hiçbir zaman yer almam.

Yukarıda kendini tanıtan harf aşağıdakilerden hangisidir?

- A. S      B. Ğ      C. K

8. "Yarın ablam ile okula gideceğim."

Cümlesinde tek başına anlamı olan kaç kelime vardır?

- A. 4      B. 5      C. 6

Soruya Gel

9.

"Dakika" kelimesinin sırasıyla her bir harfi bir daire ile gösterildikten sonra ünlü harflerle gösterilen daireler boyanmaktadır. Boyama bittikten sonra oluşan şekil hangisidir?

- A. ● ○ ○ ● ● ○  
B. ○ ● ○ ● ○ ●  
C. ● ○ ○ ● ○ ●

10.

Yeşildir rengim

Üstümde evim

Hem denizde yüzerim

Hem karada gezerim

Yukarıda anlatılan görsel aşağıdakilerden hangisidir?

A.



B.




C.



Soruya Gel

11.



Yukarıdaki kağıdın sol tarafına mürekkep ile bir kelime yazılıyor. Daha sonra kağıt, şekildeki gibi soldan sağa katlanıyor. Katlanan kağıt tekrar açıldığında solunda ve sağında aynı kelime yazıldığı görülüyor.

Kağıtta yazılı olan kelime hangisi olabilir?

- A. ASA                      B. ANA
- C. AYA

12. 1. Teker teker sayfaları çevirdim.  
2. Sevdiğim kitabı elime aldım.  
3. Kitabı bitirdiğimde mutlu oldum.  
4. Çevirdiğim sayfaları okudum.
- Yukarıdaki cümleleri oluş sırasına göre sıraladığımızda sıralama nasıl olur?

- A. 2 - 1 - 4 - 3
- B. 1 - 3 - 4 - 2
- C. 3 - 4 - 1 - 2

13.

Ahmet havuzda üşüyerek yüzdü.

Yukarıdaki cümlede altı çizili sözcükler sırasıyla hangi sorunun yanıtıdır?

- A. Kim - Nerede - Nasıl
- B. Kim - Neden - Nerede
- C. Kim - Kaç - Niçin

14. Satır sonuna sığmayan "atıştırmak" kelimesi aşağıdakilerden hangisi gibi bölünemez?

- A. atış-  
tirmak
- B. a-  
tıştırmak
- C. atıştır-  
mak

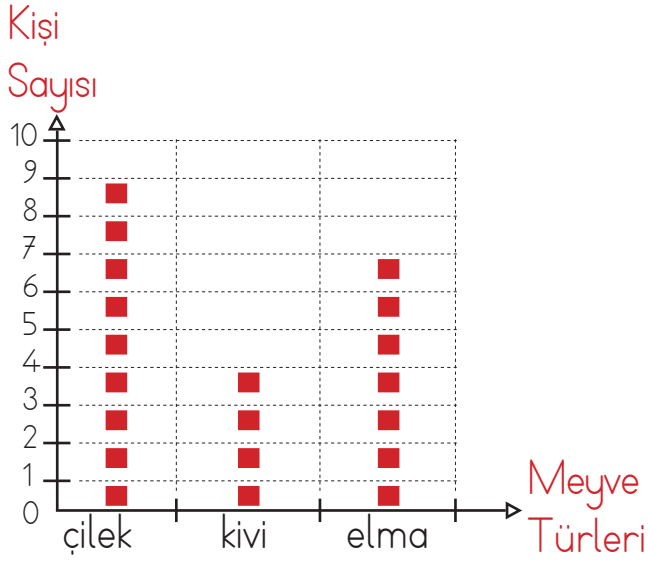
15.

eğitim	penbe
gram	süpriz

Yukarıdaki tabloda yazımı yanlış olan sözcüklerin bulunduğu kutular boyanırsa hangi görüntü oluşur?

- A. B. C.

Grafik: En Çok Sevilen Meyve Türlerinin Kişi Sayıları



Not: Her ■, 3 öğrenciyi göstermektedir.

İlk 2 soruyu yukarıda verilenlere göre çözelim.

1. Yukarıdaki grafiğe göre çilek ve elma sevenlerin sayısının eşit olması için elma sevenlere kaç sembol daha gelmesi gerekiyor?


A. 2 B. 4 C. 6

2. Yukarıdaki grafikte elma ile kivi sevenlerin toplamı, çilek sevenlerden kaç fazladır?

A. 6 B. 9 C. 12

3. Aşağıdaki nesnelerin uzunluklarını ölçmek için yapılan eşleştirmelerden hangisi yanlıştır?

A.  → Parmak

B.  → Adım

C.  → Kulaç

4. Aşağıdakilerden hangisi metre ile ölçülmez?



5. Samet Serhan




Samet'in boyu 1 m 40 cm olduğuna göre Serhan'ın boyu hangisi olamaz?

A. 1 m 05 cm B. 1 m 25 cm  
C. 1 m 50 cm

Soruya Gel

6.




Yukarıdaki görselde “?” yerine aşağıdakilerden hangisi gelmelidir?

- A.
- B.
- C.

Soruya Gel

7.



Arı Sisi yukarıdaki kodlara göre uçacaktır. Uçarken üzerinden geçtiği çiçeklerin polenlerini alıp kovanı götürecektir.

Kaç çiçeğin polenini almıştır?

- A. 8      B. 9      C. 10

8. Küçük karınca küpleri yerde üst üste koyarak yuvasına çıkmaya çalışıyor. Küplerin uzunluğu 4 santimetredir. Yuvasına ulaşmak için 9 küpü üst üste koyması yeterli olacaktır. Yuvasının yerden yüksekliği kaç santimetredir?



- A. 36      B. 13      C. 27

9. Simge doğum günü partisinde etrafı süslemek için sandalyeye çıkınca yerden yüksekliği 38 cm daha artarak 175 cm yüksekliğe erişiyor. Buna göre Simge'nin boyu hangisi olamaz?



- A. 137 cm      B. 1 m 37 cm
- C. 13 m 7 cm

10. 95 santimetrelilik kurdeleden, 3 kez 5 cm, 6 kez 4 cm kesiliyor. Buna göre geriye kaç cm kurdele kalmıştır?

- A. 56      B. 45      C. 31

11. Yandaki ürünü almak için kaç tane 4 lira gerekir?



A. 7      B. 8      C. 9

Öğrencilerin Okuduğu Kitap Sayısı

Öğrenci	Kitap Sayısı
Sinem	23
Fuat	35
Deniz	37
Ali	42

Yukarıdaki tabloda öğrencilerin bir yılda okuduğu kitap sayıları verilmiştir.

12, 13 ve 14. Soruları tabloya göre cevaplayalım.

12. Öğrenciler, en fazla kitap okuyandan en az kitap okuyana doğru sıralanırsa sıralama nasıl olur?

A. Sinem - Fuat - Deniz - Ali  
B. Ali - Deniz - Fuat - Sinem  
C. Deniz - Fuat - Ali - Sinem

13. Sinem kaç kitap daha okusaydı Fuat ile aynı sayıda kitap okumuş olacaktı?

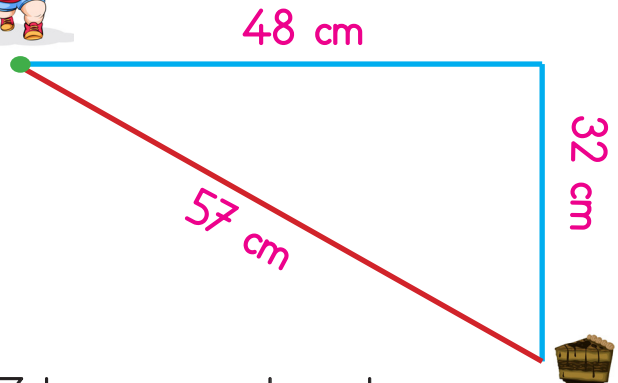
A. 58      B. 35      C. 12

14. Kitap okuma sayıları en yakın olan kişiler aşağıdakilerden hangisidir?

A. Sinem - Fuat  
B. Ali - Deniz  
C. Deniz - Fuat



15.



Zeki, pastaya ulaşmak için mavi yolu kullandıktan sonra geri dönmek için kırmızı yolu kullanıyor. Zeki toplam kaç cm yol gitmiştir?

A. 137 cm      B. 149 cm      C. 163 cm

1. Ağaçlandırma çalışması yapmak hangi doğal afetin etkisini azaltmaz?

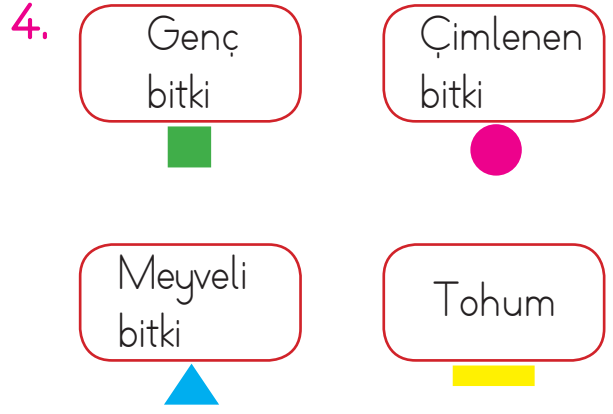


2. Aşağıdakilerden hangisi geri dönüştürülebilir bir atık değildir?






Yukarıdaki resim hangi doğal afet ile ilgili olabilir?


- A. Deprem  
B. Yangın  
C. Sel



Bir bitkinin büyüme döneminin doğru sıralanışı hangisidir?

- A. 
- B. 
- C. 

5. Hangi seçenekte doğal afetlerle adları yanlış eşleştirilmiştir?



6.



Akarsuların önüne  
setler, barajlar ya-  
pılmalıdır.

Berkan'ın söylediği önlem hangi  
doğal afet içindir?

- A. Deprem
- B. Sel
- C. Yangın

9.



Güneş yeni doğuyordu. Hasan  
sabah sporunu yapıyordu.

Yukarıdaki resme göre Hasan'ın sol  
kolu hangi yönü göstermektedir?

- A. Kuzey
- B. Batı
- C. Güney

7. Hangisi deprem öncesi alınacak  
önlemlerden biridir?

- A. Evleri sağlam zemine yapalınız.
- B. Ağaç dikmeliyiz.
- C. Çevreyi temiz tutmalıyız.

8. Aşağıdakilerden hangisi deprem  
çantamızda bulunması gereken  
malzemelerden değildir?

- A. El feneri
- B. İlk yardım çantası
- C. Oyun konsolu

10. Güneş'in doğduğu yer hangi yönü  
gösterir?

- A. Güney
- B. Batı
- C. Doğu

